


سؤالات	نمره
با دو رقم ۴ و ۶ هر چقدر می توانی عدد دو رقمی بنویس. <input type="text"/> <input type="text"/> <input type="text"/> <input type="text"/>	۱
در یک اتوبوس ۱۸ نفر نشسته اند. در ایستگاه اول ۷ نفر پیاده شدند و در ایستگاه دوم ۵ نفر سوار شدند. حالا چند نفر در اتوبوس نشسته اند؟ ( به کمک محور ) ..... 	۲
پسر خوبم جمع و تفریق زیر را انجام بده. ( به روش فرآیندی ) $\begin{array}{r} 37 \\ + 12 \\ \hline \end{array}$ $\begin{array}{r} 85 \\ - 48 \\ \hline \end{array}$	۳
دبستان سرای دانش ( واحد شریعتی ) دو کلاس پایه دوم ابتدایی دارد. در هر کلاس دوم ۱۵ دانش آموز درس می خوانند. در این دبستان روی هم چند دانش آموز پایه دوم وجود دارد؟ ( به روش فرآیندی )	۴
حاصل جمع های زیر را به دست بیاور. $200 + 300 + 50 + 50 + 100 = \dots\dots\dots$ $5 + 30 + 4 + 10 + 20 = \dots\dots\dots$	۵

جمع و تفریق زیر را به صورت تقریبی انجام بده.

$$44 \rightarrow$$

$$85 \rightarrow$$

$$+ 57 \rightarrow$$

$$- 54 \rightarrow$$

۶

الگوهای عددی زیر را ادامه بده.

۶، ۱۲، ..... ، ..... ، .....

..... ، ..... ، ..... ، ۱۵، ۱۸

۱۱۰، ۲۲۰، ۳۳۰، ..... ، ..... ، .....

۷

با سه کارت زیر هر چند تا عدد سه رقمی می‌توانی بنویسی و سپس به سوالات زیر پاسخ بده.

( با کشیدن جدول )



# جزوه سستی

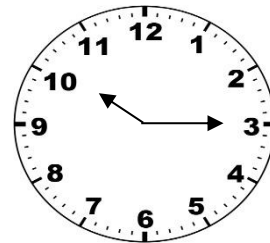
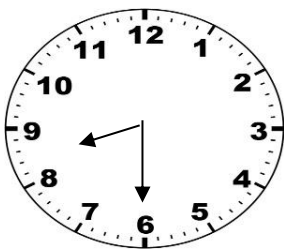
۸

بین عددهایی که نوشتی، عددی بنویسید که: الف) کوچک ترین عدد باشد. ....

ب) رقم دهگان آن بیشتر از رقم یکان باشد و رقم صدگان کمتر از رقم یکان باشد. ....

ج) جمع رقم یکان و رقم دهگان آن مساوی رقم صدگان باشد. ....

زمانی که ساعت‌های زیر نشان می‌دهد را به دو صورت بنویس.




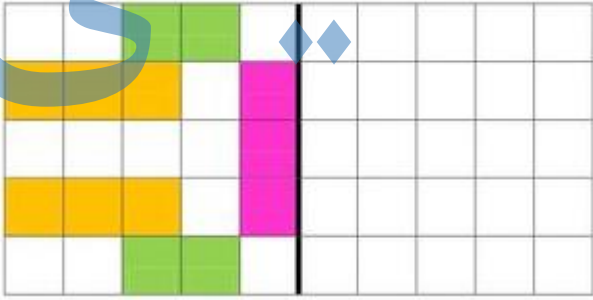

۹

.....

.....

.....

.....

	<p>پسرم به سوالات زیر پاسخ بده.</p> <p>الف) عدد ۶۴۲ به ۶۴۰ نزدیکتر است یا به ..... ؟</p> <p>ب) عدد ۶۱۸ را به حروف بنویس.</p> <p>ج) ۵ سکه‌ی ۱۰۰ ریالی، ۳ سکه‌ی ۱۰ ریالی و ۹ سکه‌ی ۱ ریالی می‌شود، ..... ریال.</p> <p>د) ده دقیقه بعد از ساعت ۲ : ۰۵ چه ساعتی است ؟</p>	۱۰
<p>۷۳۱ =</p> <p>۵۰۰ + ۷۰ + ۴ =</p>	<p>عدد اول را گسترده و عدد دوم را کامل بنویس.</p>	۱۱
 <p>.....</p> <p>.....</p> <p>تفاوت : .....</p> <p>شباهت : .....</p>	<p>نام شکل‌ها را بنویس و مقایسه کن.</p>	۱۲
	<p>سمت راست را با توجه به سمت دیگر کامل کن.</p>	۱۳
<p>۱۷۴ →</p> <p>۵۸۶ →</p> <p>_____</p>	<p>عددها را با حذف یکان و دهگان نوشته و حاصل را به دست آورید.</p> <p>۹۸۷ →</p> <p>- ۴۶۳ →</p> <p>_____</p> <p>چه عالی هستی پسر پر تلاشم!</p> 	۱۴

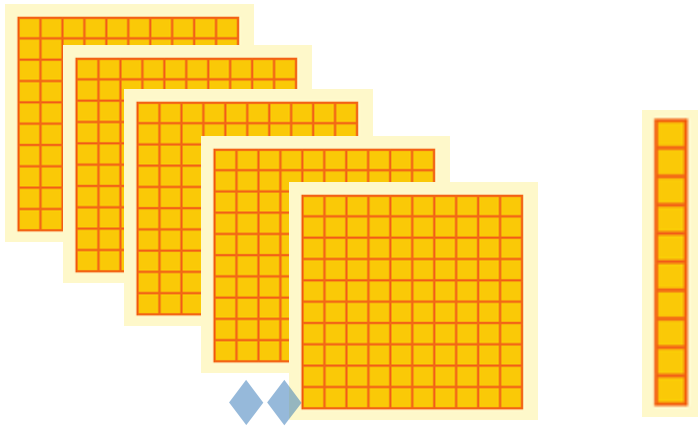
عددی را که هر شکل نشان می‌دهد به حروف بنویس و داخل جدول ارزش مکانی قرار بده.



به عدد : .....

به حروف : .....

صدتایی	ده تایی	یکی




به عدد : .....


به حروف : .....

صدتایی	ده تایی	یکی

جزوه سیپی

باز خورد آموزگار



موفق باشی 

ردیف	سؤالات
۱	<p>با دو رقم ۴ و ۶ هر چقدر می توانی عدد دو رقمی بنویس.</p> <p>۴۴      ۶۴      ۶۶      ۴۶</p>
۲	<p>در یک اتوبوس ۱۸ نفر نشسته اند. در ایستگاه اول ۷ نفر پیاده شدند و در ایستگاه دوم ۵ نفر سوار شدند. حالا چند نفر در اتوبوس نشسته اند؟ ( به کمک محور )</p> <p><math>18 - 7 + 5 = 16</math></p>
۳	<p>پسر خوبم جمع و تفریق زیر را انجام بده. ( به روش فرآیندی )</p> <div style="display: flex; justify-content: space-around;"> <div style="text-align: center;"> <math display="block">\begin{array}{r} 37 \\ + 12 \\ \hline 49 \end{array}</math> </div> <div style="text-align: center;"> <math display="block">\begin{array}{r} 85 \\ - 48 \\ \hline 37 \end{array}</math> </div> </div>
۴	<p>دبستان سرای دانش ( واحد شریعتی ) دو کلاس پایه دوم ابتدایی دارد. در هر کلاس دوم ۱۵ دانش آموز درس می خوانند. در این دبستان روی هم چند دانش آموز پایه دوم وجود دارد؟ ( به روش فرآیندی )</p> <p>این دبستان روی هم ۳۰ دانش آموز دارد.</p> <div style="display: flex; justify-content: space-around;"> <div style="text-align: center;"> <math display="block">\begin{array}{r} 15 \\ + 15 \\ \hline 30 \end{array}</math> </div> </div>
۵	<p>حاصل جمع های زیر را به دست بیاور</p> <p><math>5 + 30 + 4 + 10 + 20 = 69</math>      <math>200 + 300 + 50 + 50 + 100 = 700</math></p>

جمع و تفریق زیر را به صورت تقریبی انجام بده.

$$\begin{array}{r} 44 \rightarrow 40 \\ + 57 \rightarrow + 60 \\ \hline \end{array} \qquad \begin{array}{r} 85 \rightarrow 90 \\ - 54 \rightarrow - 50 \\ \hline \end{array}$$

۱۰۰ ۴۰


۶

الگوهای عددی زیر را ادامه بده.

۶، ۱۲، ۱۸، ۲۴، ۳۰  
 ۶، ۹، ۱۲، ۱۵، ۱۸  
 ۱۱۰، ۲۲۰، ۳۳۰، ۴۴۰، ۵۵۰، ۶۶۰

۷

با سه کارت زیر هر چند تا عدد سه رقمی می‌توانی بنویسی و سپس به سوالات زیر پاسخ بده.



صدتایی	ده تایی	یکی
۳	۴	۷
۳	۷	۴
۴	۳	۷
۴	۷	۳
۷	۳	۴
۷	۴	۳

(با کشیدن جدول)

# جزوه بسپتی

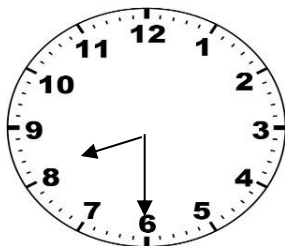
۸

بین عددهایی که نوشتی، عددی بنویسید که: الف) کوچک ترین عدد باشد. ۳۴۷

ب) رقم دهگان آن بیشتر از رقم یکان باشد و رقم صدگان کمتر از رقم یکان باشد. ۳۷۴

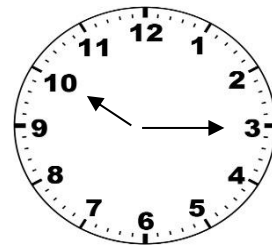
ج) جمع رقم یکان و رقم دهگان آن مساوی رقم صدگان باشد. ۷۴۳ - ۷۳۴

زمانی که ساعت‌های زیر نشان می‌دهد را به دو صورت بنویس.



۸ : ۳۰



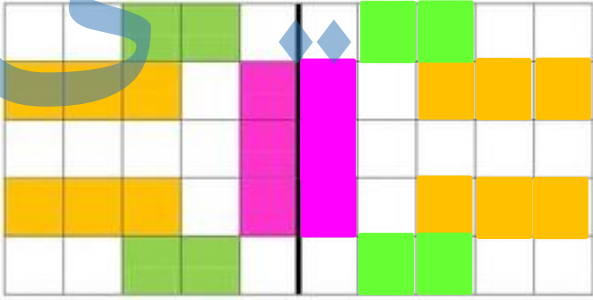

نیم ساعت مانده به ساعت ۹



۱۰ : ۱۵

یک ربع بعد از ساعت ۱۰

۹

	<p>پسرم به سوالات زیر پاسخ بده.</p> <p>الف) عدد ۶۴۲ به ۶۴۰ نزدیکتر است یا به ۶۵۰ ؟ ۶۴۰</p> <p>ب) عدد ۶۱۸ را به حروف بنویس. ششصد و هجده</p> <p>ج) ۵ سکه‌ی ۱۰۰ ریالی، ۳ سکه‌ی ۱۰ ریالی و ۹ سکه‌ی ۱ ریالی می‌شود، ۵۳۹ ریال.</p> <p>د) ده دقیقه بعد از ساعت ۲:۰۵ چه ساعتی است ؟ ۲:۱۵</p>	۱۰
	<p>عدد اول را گسترده و عدد دوم را کامل بنویس.</p> <p><math>731 = 700 + 30 + 1</math></p> <p><math>574 = 500 + 70 + 4</math></p>	۱۱
	<p>نام شکل‌ها را بنویس و مقایسه کن.</p> <div style="display: flex; justify-content: space-around; align-items: center;"> <div style="text-align: center;">  <p>مستطیل</p> </div> <div style="text-align: center;">  <p>مربع</p> </div> </div> <p>تفاوت : شکل مربع همه ی ضلع هایش برابر است اما مستطیل فقط ضلع های رو به رویش برابر است.</p> <p>شباهت : هر دو شکل ۴ ضلع و ۴ گوشه دارد.</p>	۱۲
	<p>سمت راست را با توجه به سمت دیگر کامل کن.</p> 	۱۳
	<p>عددها را با حذف یکان و دهگان نوشته و حاصل را به دست آورید.</p> <div style="display: flex; justify-content: space-around;"> <div style="text-align: center;"> <math display="block">\begin{array}{r} 174 \\ + 586 \\ \hline \end{array}</math> </div> <div style="text-align: center;"> <math display="block">\begin{array}{r} 100 \\ + 500 \\ \hline 600 \end{array}</math> </div> <div style="text-align: center;"> <math display="block">\begin{array}{r} 987 \\ - 463 \\ \hline \end{array}</math> </div> <div style="text-align: center;"> <math display="block">\begin{array}{r} 900 \\ - 400 \\ \hline 500 \end{array}</math> </div> </div> <div style="text-align: center; margin-top: 20px;">  <p>چه عالی هستی پسر پر تلاشم!</p> </div>	۱۴

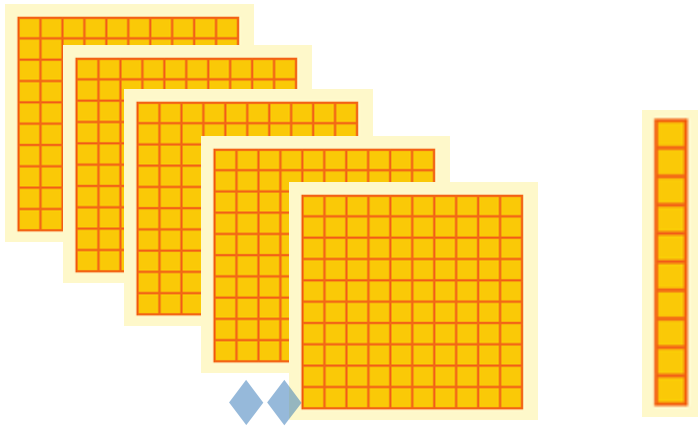
عددی را که هر شکل نشان می‌دهد به حروف بنویس و داخل جدول ارزش مکانی قرار بده.



به عدد : ۲۴۶

به حروف : دویست و چهل و شش

صدتایی	ده تایی	یکی
۲	۴	۶



به عدد : ۵۱۰


به حروف : پانصد و ده

صدتایی	ده تایی	یکی
۵	۱	۰

# جزوه سیپی

۱۵

## باز خورد آموزگار



موفق باشی 